







MINCE 2 – slovní úlohy

Obrázky mincí zdroj: vlastní fotografie

Jan a Petr mají celkem 48 Kč. Jan má polovinu z toho, co má Petr.

Jan má _____ Kč. Petr má _____ Kč.

Oba mají šest mincí. Doplň do tabulky:

	1 Kč 	2 Kč 	5 Kč 	10 Kč 	20 Kč 	50 Kč 
JAN						
PETR						







Kdyby dal Petr Janovi _____ Kč, tak by měli stejně.

Kdyby dal Petr Janovi tři mince v hodnotě _____ Kč, tak by měli stejně.

David a Lukáš mají celkem 40 Kč. Lukáš má třetinu z toho, co má David.

David má _____ Kč. Lukáš má _____ Kč.

Oba mají šest mincí. Doplň do tabulky:

	1 Kč 	2 Kč 	5 Kč 	10 Kč 	20 Kč 	50 Kč 
DAVID						
LUKÁŠ						

Kdyby dal David Lukášovi mince v hodnotě _____ Kč, tak by měli stejně.